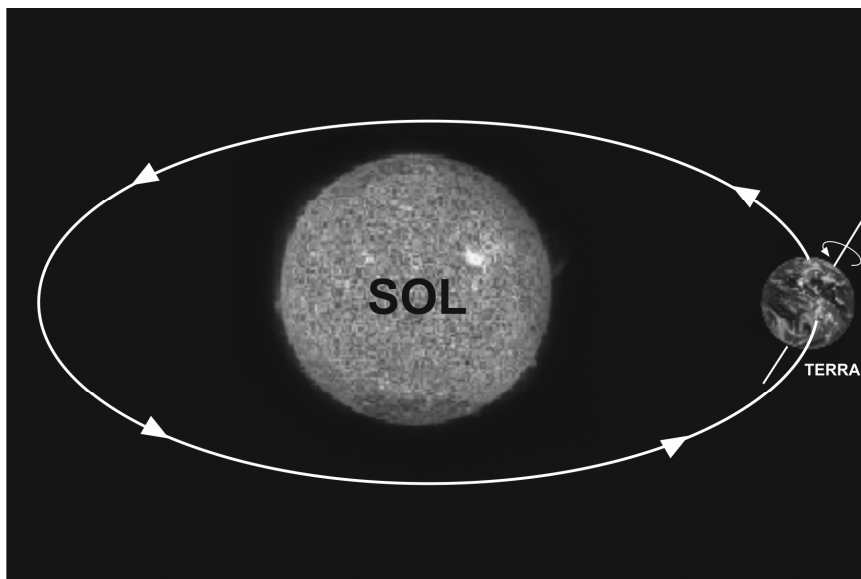


## PROVA DE GEOGRAFIA

01. Observe atentamente a figura esquemática a seguir.



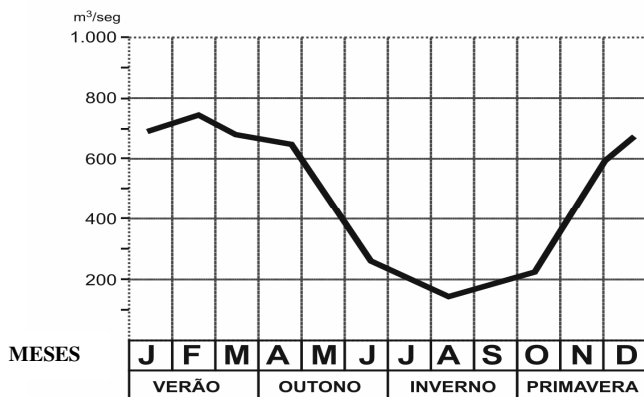
Sobre o movimento da Terra indicado, é **CORRETO** afirmar que

1. no momento em que a Terra se aproxima mais do Sol, ela atinge um ponto designado como afélio, ocasião em que o hemisfério sul fica mais iluminado.
2. a Terra executa esse movimento com o plano do eixo formando um ângulo de, aproximadamente,  $90^\circ$ , com plano da eclíptica.
3. os equinócios são os momentos em que o Sol, em seu movimento anual aparente em torno da Terra, “toca” a linha equatorial.
4. os solstícios marcam o início do verão e do inverno em ambos os hemisférios terrestres.
5. o desvio dos ventos alísios austrais é a principal consequência do movimento de translação representado no esquema.

Está(ão) correta(s)

- A) apenas 1.      B) apenas 2 e 5.      C) apenas 3 e 4.      D) apenas 1, 2 e 4.      E) apenas 1, 3, 4 e 5.

02. O gráfico a seguir mostra o andamento anual da vazão de um rio brasileiro, fortemente influenciada pelo regime de chuvas. A linha escura indica essa vazão. Com base nesse gráfico, é **CORRETO** afirmar que o clima dominante nessa bacia é do tipo



- A) semi-árido.  
B) equatorial.  
C) tropical.  
D) temperado.  
E) frio.

**03. Leia, com atenção, o texto transcrito a seguir.**

*“Este tipo de vegetação é caracterizado por árvores com brotos de crescimento, sem nenhuma proteção contra a seca e a folhagem sempre verde, possuindo normalmente três estratos: um, de árvores altas e outro mais baixo, pouco definido, compostos principalmente por regeneração de matrizes próximas, arbustos e ervas gigantes e uma camada de ervas baixas e subarbustos. Ocorre sob um clima sem período biologicamente seco, durante o ano. Os limites meridionais alcançam a Reserva Florestal de Juruena, aparecendo ainda numa superfície à parte, no extremo norte do Tocantins. Essa formação aparece com dois tipos de vegetação: densa e aberta.”*

(Adaptado. SILVA, Francisco Carlos Ferreira. **Vegetação**. In: Geografia do Brasil, vol. 1. IBGE, 1989)

**Assinale a formação vegetal descrita no texto.**

- A) Cerradão.      B) Floresta Ombrófila.      C) Floresta Caducifólia.      D) Savana.      E) Mata de Igapó.

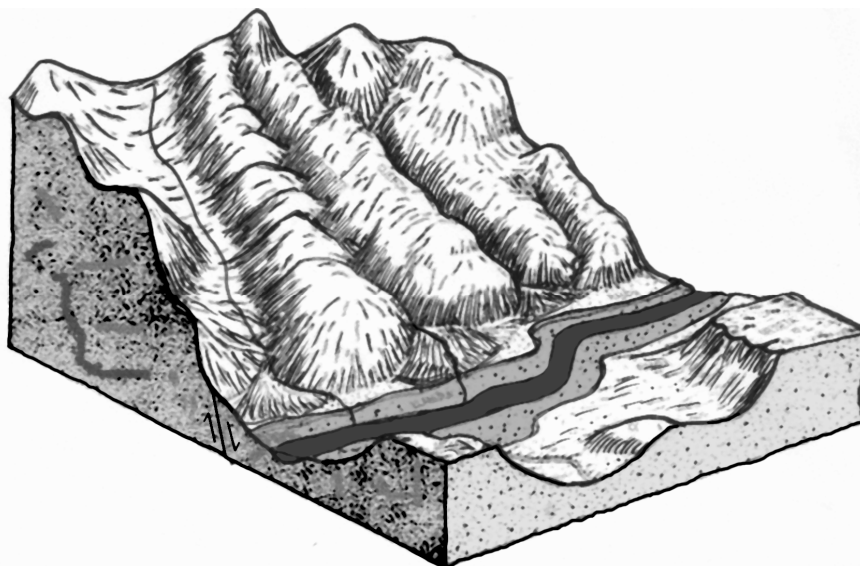
**04. Inúmeros fatores físicos, atuando em conjunto, contribuíram para a existência de áreas ecúmenas e áreas anecúmenas sobre a superfície terrestre. Essas duas áreas podem ser facilmente identificadas a partir da comparação, por exemplo, de um planisfério das densidades demográficas com um planisfério físico. São exemplos de áreas ecúmenas**

- 1- as regiões de solos férteis.
- 2- os vales e deltas fluviais.
- 3- as planícies fluviais.
- 4- as regiões de climas áridos.
- 5- os compartimentos de relevo fortemente montanhoso.

**Assinale a alternativa que contempla os exemplos corretos.**

- A) 1 e 5.      B) 2 e 4.      C) 1, 2 e 3.      D) 2, 4 e 5.      E) 1, 3 e 4.

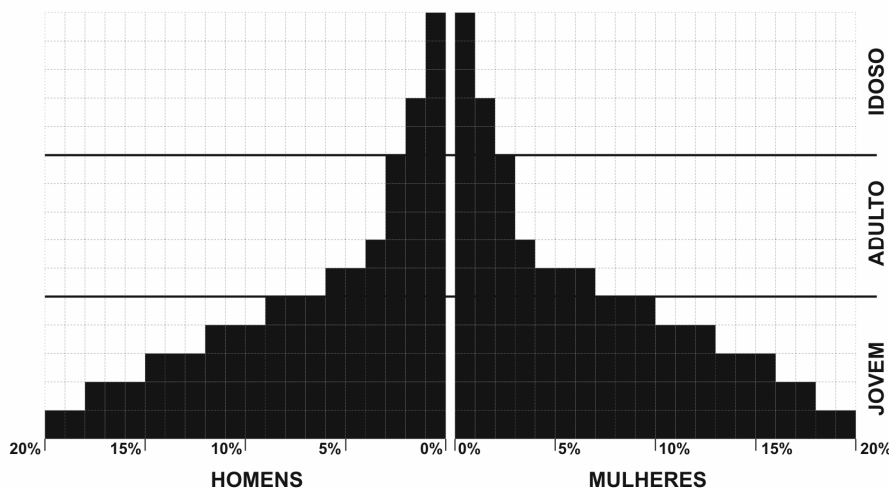
**05. A figura a seguir permite as seguintes conclusões CORRETAS:**



1. O relevo dessa paisagem sofreu, em sua evolução, influências de fatores tectônicos.
2. A ação erosiva das correntes fluviais é diretamente proporcional à declividade das encostas.
3. O relevo, esquematicamente representado, exhibe marcas de processos erosivos e deposicionais, relacionados às condições climáticas dominantes na área.
4. O rio principal atua como nível de base para os processos erosivos verificados na bacia hidrográfica.

- A) Apenas 1 e 2.      B) Apenas 2 e 3.      C) Apenas 3 e 4.      D) Apenas 1, 2 e 4.      E) 1, 2, 3 e 4.

06. A pirâmide etária é um subsídio muito importante para a análise populacional do espaço geográfico. Examine, atentamente, a pirâmide etária abaixo.



Essa pirâmide indica que o país a que ela corresponde

- A) possui a maior parte da população economicamente ativa no Setor Secundário da economia.
- B) tem uma economia subdesenvolvida.
- C) apresenta um predomínio de migrações sazonais sobre migrações intrazonais.
- D) não apresenta migrações pendulares nas regiões mais desenvolvidas.
- E) apresenta a maior parte da população economicamente ativa nos setores Primário e Secundário da economia.

07. Leia a notícia a seguir, divulgada em importante jornal brasileiro.

“Organizações não-governamentais lançaram um apelo por doações de comida e remédios para o sul da Ásia, onde, pelo menos, 250 pessoas morreram nos últimos 11 dias, devido às **chuvas torrenciais que atingem países, como Índia, Nepal e Bangladesh, no período que vai de junho a setembro**. Cerca de 10 milhões de pessoas estão desabrigadas e, ao todo, 35 milhões foram afetados pelo que seria uma das piores enchentes da Região.”

(Folha de São Paulo, 05/08/2007)

Assinale o fenômeno climático responsável pelo fato descrito nessa notícia.

- A) Alísios do sul.
- B) Brisas do Oceano Índico.
- C) “El Niño”.
- D) Monções de verão.
- E) “La Niña”.

08. Sobre relevo, observe o trecho a seguir.

“São feições de relevo de topo plano que se desenvolvem em terrenos sedimentares. Surgem em Pernambuco, como acontece em outros estados do Nordeste brasileiro, nas áreas ocupadas pelos sedimentos arenosos e areno-argilosos do Grupo Barreiras. Acham-se entalhados pelos rios que compõem as bacias do Goiana, Botafogo, Igarassu e Capibaribe.”

(Atlas Escolar - Pernambuco, Ed. Grafset, 2002)

Assinale a alternativa que contém a unidade de relevo acima descrita.

- A) Planalto da Borborema.
- B) Pediplano do rio Capibaribe.
- C) Tabuleiro Costeiro.
- D) Planície Flúvio-Marinha do Recife.
- E) Planalto da Borborema.



Nas questões de 12 a 16, assinale, na coluna I, as afirmativas verdadeiras e, na coluna II, as falsas.

12. Sobre o Poder Legislativo, a Constituição da República Federativa do Brasil, promulgada em 1988, estabelece que

I	II	
0	0	a Câmara dos Deputados compõe-se de representantes do povo, eleitos pelo sistema proporcional em cada Estado, em cada Município, em cada Território e no Distrito Federal.
1	1	compete privativamente ao Senado Federal processar e julgar o Presidente da República nos crimes de responsabilidade.
2	2	os deputados e os senadores são invioláveis por suas opiniões, palavras e votos.
3	3	as imunidades de Deputados e Senadores não subsistirão durante o Estado de Sítio.
4	4	a Constituição não poderá ser emendada na vigência de intervenção federal, de estado sítio ou de estado de defesa.

13. A individualidade natural e socioeconômica da Região Sul do Brasil possui uma grande relação com as características físico-geográficas regionais. Sobre esse tema, é CORRETO dizer que

I	II	
0	0	as condições ambientais propiciaram modos de ocupação humana diferentes daqueles verificados, por exemplo, na Região Norte do Brasil.
1	1	as condições tropicais de clima e solos prevalecem, no Brasil, em sua porção meridional do Trópico de Capricórnio.
2	2	o clima megatérmico, dominante na Serra Gaúcha, determinou a não existência de uma agricultura de exportação na área.
3	3	a Floresta de Araucária dominava nas superfícies geomorfológicas mais elevadas, com climas singulares no país.
4	4	o relevo regional corresponde, em grande parte, ao Planalto Meridional, que se notabiliza pela existência de terrenos sedimentares e vulcânicos.

14. Os impactos ambientais em áreas tropicais brasileiras afetam, sobretudo, os manguezais de forma natural ou induzida. Entre os eventos mais frequentes que provocam danos aos manguezais, estão o(a)

I	II	
0	0	despejo de esgotos, algumas vezes de cidades inteiras.
1	1	desmatamento para obtenção de lenha.
2	2	aqüicultura.

I	II
---	----

3	3
---	---

não construção de palafitas em áreas estuarinas.

4	4
---	---

insistência em se preservar a espécie “rizophora mangle” que polui o ambiente estuarino.

15. “A ascensão de países emergentes, como a Índia e a China, cria uma oportunidade histórica para o agronegócio brasileiro”. Endossam essa frase as seguintes afirmativas:

I	II
---	----

0	0
---	---

a Índia e a China representam, na atualidade, o que há de mais pujante em termos de crescimento e geração de renda na Ásia.

1	1
---	---

o fim do socialismo chinês permitiu a legalização e a expansão de produtos agrícolas brasileiros àquele país.

2	2
---	---

independentemente de crise no campo brasileiro, esses dois países mencionados representam uma excelente oportunidade para o sucesso de empresas do agronegócio brasileiro.

3	3
---	---

desde a década de 90 do século passado, havia um decréscimo considerável anual das importações dos países emergentes em relação aos produtos brasileiros; em 2007, finalmente, essa situação foi revertida.

4	4
---	---

o Brasil apresenta uma pecuária competitiva e excelentes condições para expandir sua produção, uma vez que possui expressivos estoques de terra agricultáveis.

16. Sobre alguns dos principais aspectos da Região Nordeste do Brasil, analise as afirmativas e conclua.

I	II
---	----

0	0
---	---

Quanto às condições climáticas, a região está situada na faixa intertropical, em latitudes inferiores a 20° e possui climas predominantemente mesotérmicos.

1	1
---	---

Grande parte do território do Maranhão, do Piauí e da Bahia encontra-se recoberta pelos cerrados, semelhantes aos do Brasil Central.

2	2
---	---

O Agreste, apesar de sua pequena extensão, possui elevada população, estendendo-se, como uma faixa estreita, do Rio Grande do Norte à Bahia. Trata-se de um espaço de transição ambiental.

3	3
---	---

A distribuição dos vários sistemas agrícolas pelo espaço nordestino é uma decorrência das condições naturais, da maior ou menor acessibilidade dos mercados consumidores e do momento histórico.

4	4
---	---

O extrativismo vegetal tem maior importância na porção oriental da Região, onde dominam as formações vegetais com presença constante de babaçu e carnaúba, além do caroá.